


**Exercice 1 : sur le banc d'essais poulies**



- Tourner la poulie **A** dans un sens et noter sur le dessin avec des flèches les sens de rotation des poulies **A** et **B**.  
 1 tour de **A** = ..... tour de **B**

- **Conclusion :**


.....

.....

.....

.....

**Exercice 2 : sur le banc d'essais poulies**



Tourner la poulie **A** dans un sens et noter sur le dessin avec des flèches les sens de rotation des poulies **A** et **C**.  
 1 tour de **A** = ..... tour de **C**

- **Conclusion :**


.....

.....

.....

.....

**Exercice 3 : sur le banc d'essais poulies**



Tourner la poulie **A** dans un sens et noter sur le dessin avec des flèches les sens de rotation des poulies **A** et **C**.

1 tour de **A** = ..... tour de **C**

- **Conclusion :**


.....

.....

.....

.....

**Exercice 4 : sur le banc d'essais poulies**



Tourner la poulie **C** dans un sens et noter sur le dessin avec des flèches les sens de rotation des poulies **C**, **A**, **B**.

1 tour de **C** = ..... tour de **A** = ..... tour de **B**

- **Conclusion :**


.....

.....

.....

.....

**Exercice 5 : sur le banc d'essais poulies**



Tourner la poulie **C** dans un sens et noter sur le dessin avec des flèches les sens de rotation des poulies **C**, **A**, **B**.

1 tour de **C** = ..... tour de **A** = ..... tour de **B**

- **Conclusion :**

.....

.....

.....

.....